

سؤال های امتحان نهایی درس: فلسفه و منطق	رشته: ادبیات و علوم انسانی علوم و معارف اسلامی	ساعت شروع: ۸ صبح	مدت امتحان: ۹۰ دقیقه
نام و نام خانوادگی:	سال سوم آموزش متوسطه	تاریخ امتحان: ۱۳۹۵/۶/۱۵	تعداد صفحه: ۳
دانش آموزان روزانه، بزرگسال و داوطلبان آزاد سراسر کشور در نوبت شهریور ماه سال ۱۳۹۵		مرکز سنجش آموزش و پرورش http://aee.medu.ir	

ردیف	سؤال ها پاسخ نامه دارد.	نمره
------	-------------------------	------

فلسفه

۱	<p>تعیین کنید کدام عبارت صحیح و کدام غلط است:</p> <p>الف) سوفیست ها استدلال هایی به کار می بردند که ظاهراً درست به نظر می رسید اما در واقع غلط بود.</p> <p>ب) علوم طبیعی می تواند عهده دار تحقیق در مبانی و اصول فلسفه باشد.</p> <p>ج) فیلسوف همواره می کوشد از ظاهر پدیده ها فراتر رود و آنچه را که در بن و باطن آنهاست بشناسد.</p> <p>د) از نظر سقراط ملاک انجام کار، این است که بدانیم آیا درست است یا غلط است.</p> <p>ه) از نظر افلاطون، مرجع حقیقی تمام تصورات کلی را باید در عالم طبیعت سراغ گرفت.</p> <p>و) در تمثیل غار افلاطون، منظور از «زندان غار» همان «عالم محسوسات» است.</p>	۱/۵
۲	<p>جاهای خالی را با کلمات مناسب کامل کنید:</p> <p>الف) دو مسأله ای که میان «فلسفه» و «روان شناسی» پیوند برقرار می کند و است.</p> <p>ب) دانشی که در جستجوی احکام و قواعد است «مابعدالطبیعه» نام دارد.</p> <p>ج) بحث در منطق، یادگار سقراط است.</p> <p>د) با توجه به علت های چهار گانه ارسطو، «تندرستی» نسبت به «ورزش کردن» به منزله علت است.</p>	۱/۲۵
۳	<p>گزینه صحیح را انتخاب کنید:</p> <p>الف) افلاطون در آثار خود به کدام مسأله، توجه شایانی نشان داده است؟</p> <p>۱- شناسایی ۲- دگرگونی های طبیعت</p>	۰/۲۵
	<p>ب) کدام یک از کتاب های زیر، متعلق به افلاطون است؟</p> <p>۱- درباره طبیعت ۲- تئتوس</p>	۰/۲۵
	<p>ج) در نظر ارسطو، آنچه شدنی است و آنچه بودنی است نام دارد.</p> <p>۱- ماده - صورت ۲- صورت - ماده</p>	۰/۲۵
به سؤال های زیر، پاسخ کوتاه بدهید:		
۴	برخی جامعه شناسان غربی، حکومت را حق کدام طبقه می دانند؟	۰/۵
۵	دو مورد از مسائل فلسفه اولی را نام ببرید.	۰/۵
۶	شعار پروتاگوراس چه بود؟	۰/۵
۷	پیام سروش دلفی چه بود؟	۰/۵
۸	از نظر سقراط، گام اول در طریق کسب حکمت و دانایی چیست؟	۰/۵
ادامه سؤال ها در صفحه دوم		

سؤال‌های امتحان نهایی درس: فلسفه و منطق	رشته: ادبیات و علوم انسانی علوم و معارف اسلامی	ساعت شروع: ۸ صبح	مدت امتحان: ۹۰ دقیقه
نام و نام خانوادگی:	سال سوم آموزش متوسطه	تاریخ امتحان: ۱۳۹۵/۶/۱۵	تعداد صفحه: ۳
دانش‌آموزان روزانه، بزرگسال و داوطلبان آزاد سراسر کشور در نوبت شهریور ماه سال ۱۳۹۵		مرکز سنجش آموزش و پرورش http://aee.medu.ir	

ردیف	سؤال‌ها پاسخ‌نامه دارد.	نمره
------	-------------------------	------




به سؤال‌های زیر، پاسخ کامل بدهید:	
۹	دو مورد از تأثیرات مثبت سوفسطاییان در تاریخ فلسفه را بنویسید.
۱۰	از نظر افلاطون، چرا هیچ یک از ادراکات حسی ما قابل اعتماد نیستند؟
۱۱	«طبیعت جسم» را از نظر ارسطو و پیروانش تعریف کنید.
۱۲	چرا ارسطو جهان طبیعت را به «کدبانوی شایسته» تشبیه می‌کند؟

منطق

۱۳	تعیین کنید کدام عبارت صحیح و کدام غلط است: الف) در تصور، حکم و قضاوت وجود دارد. ب) مفاهیم ذاتی در مقام فهم و تصور، مقدم بر ذات هستند. ج) هرگاه خبری بدون هیچ قید و شرطی بیان شود، آن قضیه را «حملی» می‌نامند. د) سور «هر» یا «هیچ» نشانه جزئی بودن قضیه است. ه) «شکل دوم قیاس اقترانی» دارای شش ضرب نتیجه دهنده است. و) اصول دین با «برهان» همراه است.
----	--

۱۴	جاهای خالی را با کلمات مناسب کامل کنید: الف) دانشی که طرز کار ذهن را در عمل تفکر، تشریح می‌کند نام دارد. ب) هرگاه به جای تعریف یک مفهوم، آن را معنی کرده و شرح دهیم به این نوع تعریف، می‌گویند. ج) قضیه‌ای که در آن درست بودن و غلط بودن دو طرف، محال باشد «شرطی منفصل» است. د) نتیجه «موجب کلی» از ضرب شکل به دست می‌آید.
----	--

۱۵	هریک از موارد سمت راست با کدام مورد از سمت چپ ارتباط دارد؟ (یک مورد در سمت چپ اضافی است). الف) کلی بودن حداقل یکی از دو مقدمه ب) اختلاف دو مقدمه در سلب و ایجاب ۱- شکل اول قیاس اقترانی ۲- شکل دوم قیاس اقترانی ۳- شکل سوم قیاس اقترانی
----	--

به سؤال‌های زیر، پاسخ کوتاه بدهید:	
۱۶	از میان کلیات پنجگانه، مفهوم ذاتی که مشترک میان چند ذات باشد، چه نام دارد؟
۱۷	قضیه «درخت یا کاج است یا چنار» کدام نوع قضیه شرطی منفصل است؟
۱۸	رابطه میان دو تصور کلی «اسب و حیوان» با کدام شکل نمایش داده می‌شود؟ الف)  (ب)  (ج) 

بِسْمِ اللَّهِ الرَّحْمَنِ الرَّحِيمِ

سؤال‌های امتحان نهایی درس: فلسفه و منطق	رشته: ادبیات و علوم انسانی علوم و معارف اسلامی	ساعت شروع: ۸ صبح	مدت امتحان: ۹۰ دقیقه
نام و نام خانوادگی:	سال سوم آموزش متوسطه	تاریخ امتحان: ۱۳۹۵/۶/۱۵	تعداد صفحه: ۳
دانش‌آموزان روزانه، بزرگسال و داوطلبان آزاد سراسر کشور در نوبت شهریور ماه سال ۱۳۹۵		مرکز سنجش آموزش و پرورش http://aee.medu.ir	

ردیف	سؤال‌ها پاسخ‌نامه دارد.	نمره								
۱۹	تعریف‌های زیر را کامل کنید: الف) رسم ناقص انسان: شگفت زده ب) حد تام مثلث: شکل ج) مغالطه	۰/۵								
۲۰	«تمثیل» در چه مواردی کاربرد دارد؟ (ذکر دو مورد کافی است).	۰/۵								
۲۱	استدلالی که از قضایای مشهور یا مسلم تشکیل می‌شود و طرف مقابل را قانع می‌کند چه نام دارد؟	۰/۲۵								
۲۲	در قیاس زیر، تعیین کنید: الف) شکل چندم قیاس اقترانی است؟ ب) نتیجه دارد یا عقیم است؟ ج) در صورت عقیم بودن، دلیل آن چیست؟ هر الف ب است. بعضی ب ج نیست.	۰/۷۵								
۲۳	هریک از اصطلاحات زیر را تعریف کنید: الف) مفهوم کلی ب) عرض عام ج) مغالطه	۲								
۲۴	جدول زیر را کامل کنید: <table border="1" style="margin-left: auto; margin-right: auto;"> <tr> <td>اصل قضیه</td> <td>تحت تضاد</td> <td>عکس مستوی</td> <td>تناقض</td> </tr> <tr> <td>هر مربع شکل است.</td> <td>الف)</td> <td>ب)</td> <td>ج)</td> </tr> </table>	اصل قضیه	تحت تضاد	عکس مستوی	تناقض	هر مربع شکل است.	الف)	ب)	ج)	۱/۵
اصل قضیه	تحت تضاد	عکس مستوی	تناقض							
هر مربع شکل است.	الف)	ب)	ج)							
به سؤال‌های زیر، پاسخ کامل بدهید:										
۲۵	علت اصلی مشکل بودن تعریف مفاهیمی مانند «زندگی و انسانیت» چیست؟	۰/۵								
۲۶	چرا با پیدایش منطق‌های جدید، دوره منطق قدیم به سر نیامده است؟	۰/۵								
۲۷	شعر منطقی چه تفاوتی با شعر ادبی دارد؟	۰/۵								
۲۰	جمع نمره	سر بلند و پیروز باشید.								