

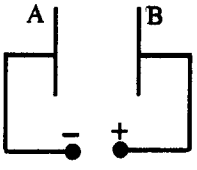
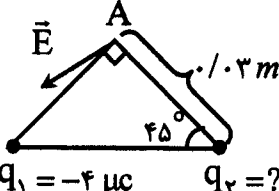
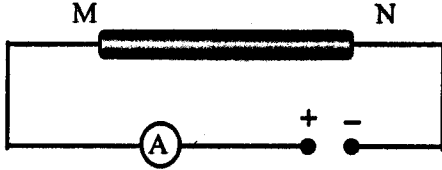
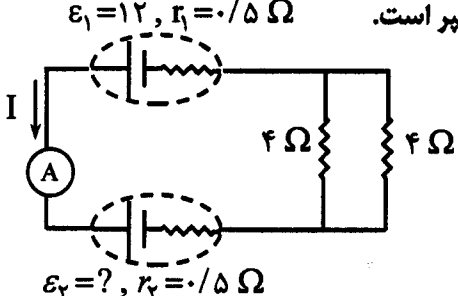
سؤالات امتحان نهانی درس فیزیک (۳) و آزمایشگاه	رشته: ریاضی فیزیک	ساعت شروع: ۸ صبح	مدت امتحان: ۱۲۰ دقیقه
سال سوم آموزش متوسطه	تاریخ امتحان: ۱۳۹۱ / ۳ / ۶	مرکز سنجش آموزش و پرورش http://aee.medu.ir	
دانش آموزان و داوطلبان آزاد سراسر کشور در خرداد ماه سال ۱۳۹۱			

ردیف	سؤالات	نمره
------	--------	------

۱	<p>کلمه های مناسب را از داخل پرانتز انتخاب نمایید و به پاسخ برگ منتقل کنید .</p> <p>الف) براساس قانون (اول- دوم) ترمودینامیک گرما به خودی خود از جسم سرد به جسم گرم منتقل نمی شود.</p> <p>ب) اگر فاصله ی دو ذره ی باردار را نصف کنیم، نیروی کولنی بین دو بار (چهار برابر - دو برابر) می شود.</p> <p>ج) در رساناهای فلزی افزایش دما سبب (افزایش - کاهش) مقاومت رسانا می شود.</p> <p>د) با افزایش شعاع پیچه ، میدان مغناطیسی در مرکز پیچه (افزایش - کاهش) می یابد.</p> <p>ه) سیملوله در مداری با جریان (مستقیم - متغیر)، القا گراست و ضریب خود القایی آن به جنس هسته ی داخل سیملوله بستگی (دارد - ندارد).</p>	۱/۵
۲	چرا با باز گذاشتن در یخچال نمی توان آشپزخانه را خنک کرد؟ (با استفاده از قانون اول ترمودینامیک پاسخ دهید)	۰/۷۵
۳	<p>شکل رو به رو یک چرخه ی کارنو را نشان می دهد.</p> <p>الف) در کدام یک از فرایندهای این چرخه ، دمای گاز کامل با دمای منبع گرم برابر است؟</p> <p>ب) اگر دمای منبع گرم در چرخه ی کارنو 27°C و بازده ی چرخه ۶٪ باشد . دمای منبع سرد چند درجه ی کلوین است ؟</p>	<p>۰/۲۵</p> <p>۰/۷۵</p>
۴	<p>دستگاهی مطابق شکل از طریق مسیر abc ، از حالت a به حالت c می رود و در این مسیر ۶۰ ژول گرما می گیرد و ۵۰ ژول کار انجام می دهد . تغییر انرژی درونی دستگاه را در مسیر برگشت (از حالت c به حالت a) محاسبه کنید.</p>	۰/۷۵
۵	<p>شکل روبه رو نمودار V-T ی مربوط به ۰/۵ مول گاز کامل تک اتمی را طی دو فرایند متوالی (۱) و (۲) نشان می دهد.</p> <p>الف) در فرایند (۱) فشار گاز چند پاسکال است؟</p> <p>ب) کار انجام شده در فرایند (۱) را محاسبه کنید .</p> <p>ج) گرمای مبادله شده بین دستگاه و محیط در فرایند (۲) چه قدر است ؟</p>	<p>۰/۷۵</p> <p>۰/۵</p> <p>۰/۵</p>
	<p style="text-align: center;">$C_{MV} = \frac{3}{2}R$ $R = 8 \text{ J/mol.k}$</p>	
۶	<p>الف) چگالی سطحی بار را تعریف کنید.</p> <p>ب) مطابق شکل روبه رو ظرف رسانای توخالی A به یک وان دو گراف باردار متصل شده است و کره ی فلزی B درون آن قرار دارد . با ارائه ی دلیل توضیح دهید ، کره ی B دارای بار الکتریکی می شود یا خیر؟</p>	<p>۰/۵</p> <p>۰/۷۵</p>

مدت امتحان: ۱۲۰ دقیقه	ساعت شروع: ۸ صبح	رشته: ریاضی فیزیک	سوالات امتحان نهایی درس فیزیک (۳) و آزمایشگاه
۱۳۹۱ / ۳ / ۶	تاریخ امتحان:	سال سوم آموزش متوسطه	
مرکز سنجش آموزش و پرورش http://aee.medu.ir	دانش آموزان و داوطلبان آزاد سراسر کشور در خرداد ماه سال ۱۳۹۱		

ردیف	سوالات	نمره
------	--------	------

۷	<p>در شکل روبه رو خازنی با صفحه‌های رسانای A و B به باتری متصل شده است.</p>  <p>الف) پتانسیل الکتریکی صفحه A بیشتر است یا صفحه B؟ ب) در صورتی که بار مثبت q' را از صفحه‌ی منفی خازن بردار جدا کرده و به صفحه‌ی مثبت منتقل کنیم، انرژی ذخیره شده در خازن افزایش می‌یابد یا کاهش؟ (توضیح دهید)</p>	۰/۲۵ ۰/۵									
۸	<p>در شکل روبه رو دو ذره‌ی باردار q_1 و q_2 در دو رأس مثلث متساوی الساقین ثابت شده‌اند و \vec{E} میدان الکتریکی حاصل از این دو بار، در رأس قائم الزاویه A است.</p>  <p>الف) بار q_2 مثبت است یا منفی؟ ب) اگر $q_1 = -4 \mu\text{C}$ باشد، اندازه‌ی بار q_2 را طوری تعیین کنید که بزرگی میدان الکتریکی \vec{E} برابر $5 \times 10^7 \frac{\text{N}}{\text{C}}$ باشد. $k = 9 \times 10^9 \frac{\text{N.m}^2}{\text{C}^2}$</p>	۰/۲۵ ۱/۲۵									
۹	<p>خازنی به ظرفیت $C_1 = 5 \mu\text{F}$ با اختلاف پتانسیل 1200 V و خازنی به ظرفیت $C_2 = 10 \mu\text{F}$ با اختلاف پتانسیل 750 V پر شده‌اند. اگر خازن‌ها را از مدار اصلی آن‌ها جدا کرده و صفحه‌های هم‌نامشان را به هم وصل کنیم، اختلاف پتانسیل بین دو صفحه‌ی خازن‌ها چه اندازه می‌شود؟</p>	۰/۲۵									
۱۰	<p>اطلاعات مربوط به دو رسانای A و B با طول یکسان (در یک دمای معین) در جدول روبه رو داده شده است.</p> <table border="1" data-bbox="267 1102 657 1323"> <thead> <tr> <th>رسانا</th> <th>مقاومت ویژه $\rho (\Omega\text{m})$</th> <th>مساحت مقطع $A (\text{m}^2)$</th> </tr> </thead> <tbody> <tr> <td>A</td> <td>5×10^{-8}</td> <td>2×10^{-4}</td> </tr> <tr> <td>B</td> <td>8×10^{-8}</td> <td>4×10^{-4}</td> </tr> </tbody> </table> <p>الف) مقاومت دو رسانا را با یکدیگر مقایسه کنید. ب) اگر در مدار شکل روبه رو به رو یک بار رسانای A و بار دیگر رسانای B را بین دو نقطه‌ی M و N قرار دهیم، با ذکر دلیل مشخص کنید مقدار جریانی که آمپرسنج نشان می‌دهد در کدام حالت بیش‌تر است؟ (دما را ثابت فرض کنید.)</p> 	رسانا	مقاومت ویژه $\rho (\Omega\text{m})$	مساحت مقطع $A (\text{m}^2)$	A	5×10^{-8}	2×10^{-4}	B	8×10^{-8}	4×10^{-4}	۰/۵ ۰/۵
رسانا	مقاومت ویژه $\rho (\Omega\text{m})$	مساحت مقطع $A (\text{m}^2)$									
A	5×10^{-8}	2×10^{-4}									
B	8×10^{-8}	4×10^{-4}									
۱۱	<p>اگر پایانه‌های یک مولد را فقط به دو سر یک ولت‌سنج ببندیم، عددی که ولت‌سنج نشان می‌دهد چه کمیتی است؟ توضیح دهید.</p>	۰/۲۵									
۱۲	<p>در مدار شکل روبه رو، شدت جریانی که آمپرسنج نشان می‌دهد ۲ آمپر است.</p>  <p>الف) نیروی محرکه‌ی \mathcal{E}_2. ب) توان مفید (یا توان خروجی) مولد \mathcal{E}_1.</p> <p>$\mathcal{E}_1 = 12, r_1 = 0.5 \Omega$ $\mathcal{E}_2 = ?, r_2 = 0.5 \Omega$</p>	۱ ۰/۵									

سؤالات امتحان نهانی درس فیزیک (۳) و آزمایشگاه	رشته: ریاضی فیزیک	ساعت شروع: ۸ صبح	مدت امتحان: ۱۲۰ دقیقه
سال سوم آموزش متوسطه	تاریخ امتحان: ۱۳۹۱ / ۳ / ۶		
دانش آموزان و داوطلبان آزاد سراسر کشور در خرداد ماه سال ۱۳۹۱		مرکز سنجش آموزش و پرورش http://acc.medu.ir	

ردیف	سؤالات	نمره
------	--------	------

۱۳	الف) یک تسلا را تعریف کنید. ب) چرا در ساختن آهنربای دائمی از مواد فرو مغناطیس سخت استفاده می شود؟	۰/۵ ۰/۵
۱۴	با توجه به هر یک از شکل های زیر، پاسخ های مناسب را از داخل پرانتز انتخاب و در پاسخ برگ بنویسید. الف) در آهنربای (۱)، قطب (N - S) و در آهنربای (۲)، قطب (N - S) است. ب) جهت میدان مغناطیسی ناشی از پیچه در نقطه ی O (درون سو - برونسو) است و با افزایش جریان مدار، بزرگی میدان مغناطیسی در O (کاهش - افزایش) می یابد.	۰/۵ ۰/۵
۱۵	پروتونی با سرعت $4 \times 10^6 \frac{m}{s}$ مطابق شکل در میدان مغناطیسی یکنواختی به بزرگی 20 mT در حرکت است. الف) بزرگی نیروی الکترو مغناطیسی وارد بر این پروتون را محاسبه کنید. ب) جهت این نیرو چگونه است؟ $q = 1.6 \times 10^{-19} \text{ C}$	۰/۷۵ ۰/۲۵
۱۶	مطابق شکل دو سیم راست و موازی به فاصله ی ۶ سانتی متر از یک دیگر قرار دارند و جریان های $I_1 = 6 \text{ A}$ و $I_2 = 3 \text{ A}$ از آن ها می گذرد. بزرگی میدان مغناطیسی برآیند را در نقطه ی M وسط فاصله ی بین دو سیم محاسبه کنید. $\mu_0 = 4\pi \times 10^{-7} \frac{Tm}{A}$	۱/۲۵
۱۷	مطابق شکل روبه رو، آهنربایی را به سمت سیملوله حرکت می دهیم. الف) با ذکر دلیل تعیین کنید جهت جریان القایی در سیم AB به سمت راست است یا چپ؟ ب) اگر آهنربا را با سرعت بیشتری به سیملوله نزدیک کنیم، چه تغییری در جهت جریان و اندازه ی جریان ایجاد می شود؟	۰/۷۵ ۰/۵
۱۸	جریان متناوبی با معادله ی $I = 5 \sin 50\pi t$ از یک رسانا به مقاومت 10 اهم می گذرد. الف) در چه لحظه ای اولین بار شدت جریان بیشینه می شود؟ ب) نیروی محرکه ی القایی بیشینه چه قدر است؟	۰/۷۵ ۰/۵

موفق و سربلند باشید.