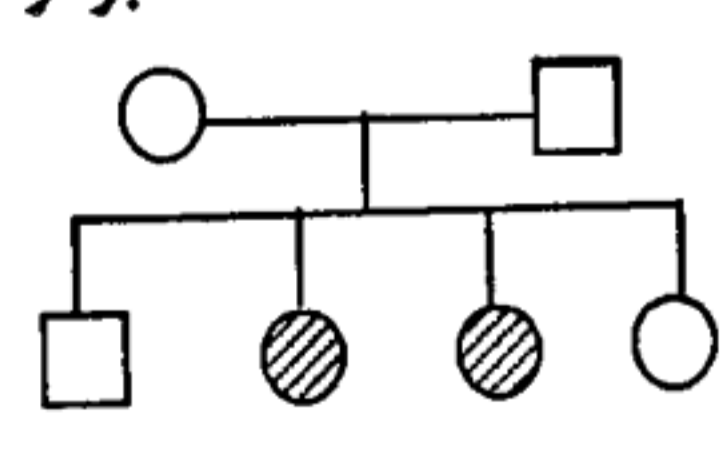


باسمه تعالی

سؤالات امتحان نهایی درس: زیست شناسی و آزمایشگاه (۲)	رشته‌ی علوم تجربی	ساعت شروع: ۸ صبح	مدت امتحان: ۱۰۰ دقیقه
سال سوم آموزش متوسطه	تاریخ امتحان: ۹۲/۲/۲۸	تعداد صفحه: ۳	
دانش آموزان روزانه، بزرگسال و داوطلبان آزاد سراسر کشور (نوبت خرداد ماه) سال ۱۳۹۲		مرکز سنجش آموزش و پرورش <a href="http://aee.medu.ir">http://aee.medu.ir</a>	

ردیف	سؤالات (پاسخنامه دارد)	نمره
------	------------------------	------

۱	<p>صحیح یا غلط بودن هر یک از عبارات زیر را بدون ذکر دلیل مشخص کرده و در برگه پاسخ بنویسید.</p> <p>الف) پرفورین مانند پروتئین مکمل در دفاع غیر اختصاصی شرکت می کند.</p> <p>ب) دستگاه عصبی مرکزی پلاناریا شامل مغز و دو طناب عصبی است.</p> <p>ج) گیرنده های درد نسبت به گیرنده های فشاردر بخش های عمیق تر پوست قرار دارند.</p> <p>د) هورمون های آمینواسیدی تیروئیدی، در افراد بزرگسال سبب کاهش هوشیاری می شوند.</p> <p>و) در مولکول DNA ی خطی، تعداد پیوندهای فسفودی استر از تعداد نوکلئوتید های آن کمتر است.</p> <p>ه) کروموزوم های همتا در همه ی سلولها وجود دارند.</p>	۱/۵
۲	<p>جای خالی جملات زیر را با کلمات مناسب پر کنید.</p> <p>الف) پپتیدهای غنی از گوگرد در گیاه یونجه، فعالیت..... دارد.</p> <p>ب) انتقال دهنده ی عصبی در پایانه نورون های حرکتی..... است.</p> <p>ج) در هنگام دیدن اشیاء نزدیک، قطرعدسی چشم..... می شود.</p> <p>د) در انسان سالم و طبیعی، با کاهش میزان سدیم خون، مقدار هورمون..... افزایش می یابد.</p> <p>و) تعداد نوکلئوتیدهای آدنین دار در مولکول DNA ای با ۴۰۰ نوکلئوتید و ۱۵۰ سیتوزین،..... می شود.</p> <p>ه) عامل محیطی مؤثر در تغییررنگ موهای روباه قطبی..... است.</p>	۱/۵
۳	<p>در سؤالات زیر گزینه ی صحیح را انتخاب کنید.</p> <p>الف) به هنگام بروز آلرژی، پادتن از کدام سلول ترشح می شود؟</p> <p>۱- لنفوسیت T      ۲- لنفوسیت B      ۳- پلاسموسیت      ۴- ماستوسیت</p> <p>ب) کدامیک مرکز تقویت پیام های حسی است؟</p> <p>۱- هیپوتالاموس      ۲- تالاموس      ۳- بصل النخاع      ۴- ساقه مغز</p> <p>ج) در کدام جانور ماهیچه های گوش میانی، به هنگام شنیدن صداهای بلند به استراحت در می آیند؟</p> <p>۱- مار زنگی      ۲- خرچنگ      ۳- گربه ماهی      ۴- خفاش</p> <p>د) کاهش کدام هورمون می تواند سبب خاصیت اسیدی خون شود؟</p> <p>۱- انسولین      ۲- گلوکاگون      ۳- اپی نفرین      ۴- کورتیزول</p> <p>و) جنسیت کدام یک با بقیه تفاوت دارد؟</p> <p>۱- پروانه ZZ      ۲- ملخ XO      ۳- انسان XY      ۴- کبوتر ZW</p> <p>ه) نحوه وراثت صفت مورد نظر در دودمانه ی روبرو کدام است؟</p> <p>۱- اتوزومی مغلوب      ۲- اتوزومی غالب      ۳- وابسته به جنس غالب      ۴- وابسته به جنس مغلوب</p> 	۱/۵
۴	<p>در بیماری MS (مالتیپل اسکلروزیس):</p> <p>الف) دستگاه ایمنی چه بخشی از سلولهای عصبی را مورد تهاجم قرار می دهد؟</p> <p>ب) دو مورد از علائم این بیماری را بنویسید.</p>	۱
«ادامه ی سؤالات در صفحه ی دوم»		

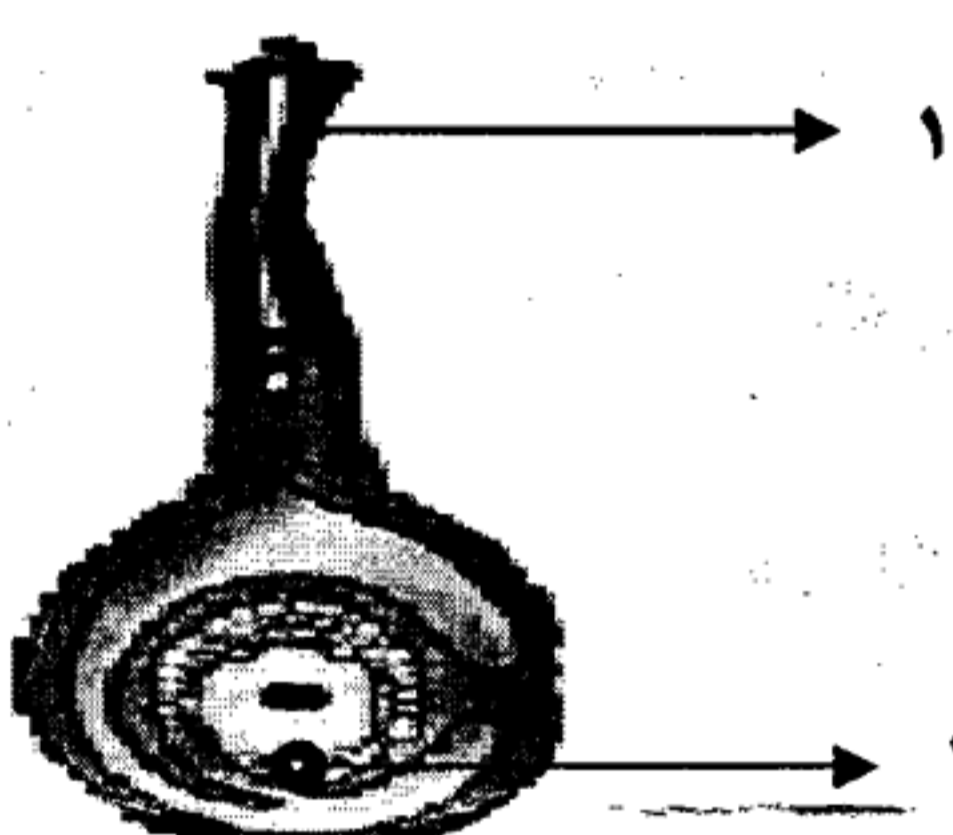
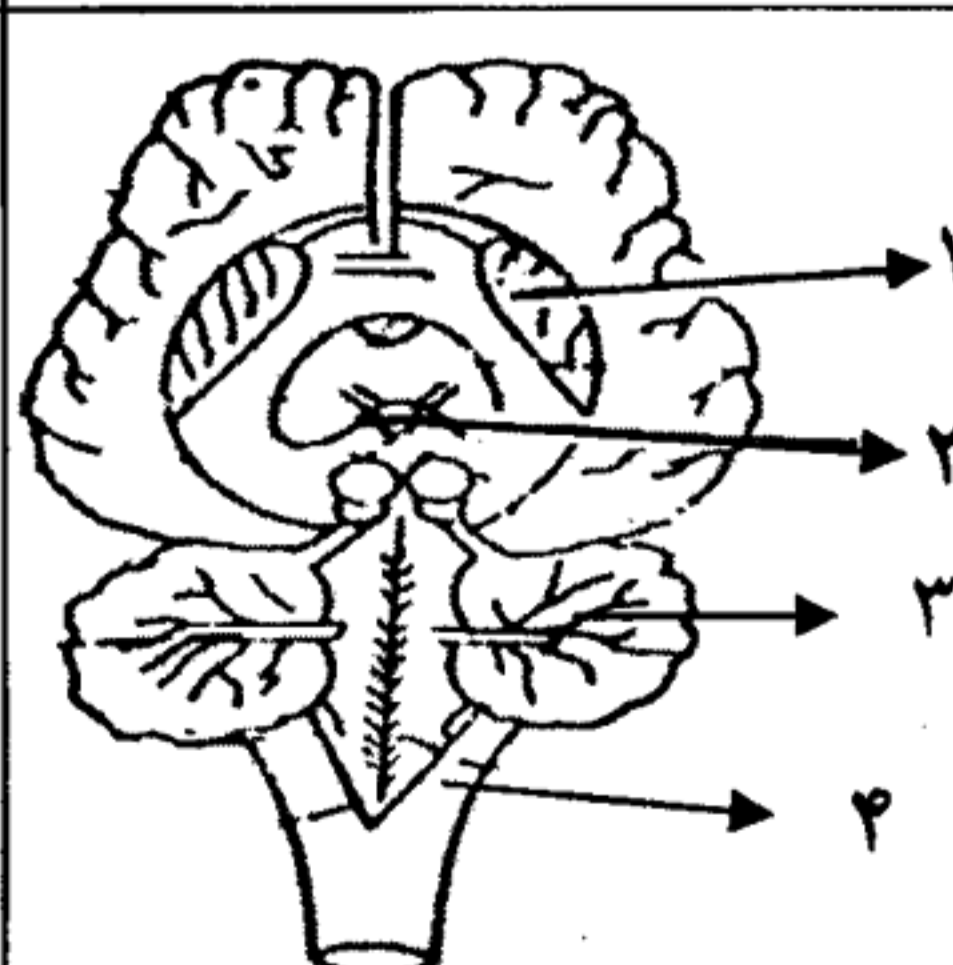
باسمه تعالی

سؤالات امتحان نهایی درس: زیست شناسی و آزمایشگاه (۲)	رشته‌ی علوم تجربی	ساعت شروع: ۸ صبح	مدت امتحان: ۱۰۰ دقیقه
سال سوم آموزش متوسطه	تاریخ امتحان: ۹۲/۲/۲۸	تعداد صفحه: ۳	
دانش آموزان روزانه، بزرگسال و داوطلبان آزاد سراسر کشور (نوبت خرداد ماه) سال ۱۳۹۲		مرکز سنجش آموزش و پرورش <a href="http://aee.medu.ir">http://aee.medu.ir</a>	

ردیف	سؤالات (پاسخنامه دارد)	نمره
۵	در رابطه با پرده‌ی مننژ به دو سؤال زیر پاسخ دهید: الف) خارجی ترین لایه‌ی پرده مننژ را نام ببرید. ب) کدام لایه در تغذیه‌ی بافت عصبی نقش دارد؟	۰/۵
۶	در مورد گیرنده‌های حسی، به سؤالات زیر پاسخ دهید: الف) نوع گیرنده‌ی سلول‌های مژکدار گوش درونی را نام ببرید. ب) پردازش اطلاعات بینایی در کدام بخش قشر مخ، انجام می‌گیرد؟ ج) گیرنده‌های بویایی بینی در کجا قرار دارند؟	۰/۷۵
۷	گیرنده هر یک از هورمون‌های زیر در چه بخشی از سلول هدف قرار دارند؟ الف) تیروکسین      ب) کلسی‌تونین      ج) استروژن	۰/۷۵
۸	آنزیم DNA پلی‌مرز چگونه از بروز جهش به هنگام همانندسازی جلوگیری می‌کند؟	۰/۵
۹	هریک از اصطلاحات زیر را تعریف کنید. الف) ترانسفورماسیون      ب) آمیزش مونوهیبریدی      ج) نمو	۱/۵
۱۰	در رابطه با کروموزوم‌ها به سؤالات زیر پاسخ دهید: الف) پروتئینی که سبب فشردگی شدن DNA می‌شود، چه نام دارد؟ ب) در کدام نوع جهش کروموزومی، قطعه‌ی شکسته شده به کروموزوم هم‌تا متصل می‌شود؟ ج) در کدام مرحله از چرخه‌ی سلولی، کروموزوم‌ها دو کروماتیدی می‌شوند؟ د) ناهنجاری موجود در تعداد کروموزوم‌ها چگونه تشخیص داده می‌شود؟	۱
۱۱	در سلول‌های گیاهی، سیتوکینز، چگونه انجام می‌شود؟	۰/۷۵
۱۲	به چه دلیل آسیب‌های وارد به مغز و نخاع جبران نمی‌شوند؟	۰/۵
۱۳	به سؤالات زیر در رابطه با تقسیم میوز پاسخ دهید. الف) شکل مقابل دقیقا کدام مرحله از تقسیم میوز می‌باشد؟ ب) با توجه به شکل رسم شده، قبل از شروع تقسیم میوز، تعداد کروموزوم‌های سلول اولیه را بنویسید. ج) در کدام مرحله از تقسیم میوز، کروموزوم‌های خواهری از هم جدا می‌شوند؟	۰/۷۵
۱۴	علت هر یک از موارد زیر را بنویسید. الف) افراد حاصل از بکرزایی در واقع یک کلون هستند. ب) در صورت عدم تغذیه‌ی صحیح، فرد مبتلا به فنیل‌کتونوریا عقب مانده‌ی ذهنی می‌شود. ج) بریدن سر شاخه‌های گیاهان در پرشاخه و برگ شدن آن‌ها مؤثر است.	۱/۵
۱۵	مردی هموفیل با زنی سالم که پدرش هموفیل بوده، ازدواج کرده است: الف) ژنوتیپ زن را مشخص کنید. ب) چه قدر احتمال دارد این خانواده پسر سالم داشته باشند؟	۰/۵
	«ادامه‌ی سؤالات در صفحه‌ی سوم»	

باسمه تعالی

سؤالات امتحان نهایی درس: زیست شناسی و آزمایشگاه (۲)	رشته‌ی علوم تجربی	ساعت شروع: ۸ صبح	مدت امتحان: ۱۰۰ دقیقه
سال سوم آموزش متوسطه	تاریخ امتحان: ۹۲/۲/۲۸	تعداد صفحه: ۳	
دانش آموزان روزانه، بزرگسال و داوطلبان آزاد سراسر کشور (نوبت خرداد ماه) سال ۱۳۹۲		مرکز سنجش آموزش و پرورش <a href="http://aee.medu.ir">http://aee.medu.ir</a>	

ردیف	سؤالات (پاسخنامه دارد)	نمره
۱۶	بافت ذخیره‌ی دانه‌ی رسیده‌ی هریک از گیاهان زیر را از نظر تعداد مجموعه‌ی کروموزومی مقایسه کنید. الف) کاج      ب) لوبیا      ج) ذرت	۰/۷۵
۱۷	به دو سؤال زیر در رابطه با گیاهان پاسخ دهید: الف) به چه گیاهانی نهانزادان آوندی می‌گویند؟ ب) آنتروژوئیدها از تقسیم کدام سلول دانه‌ی گرده‌ی کاج به وجود می‌آیند؟	۰/۷۵
۱۸	کامبیوم آوند سازو مریستم رأسی نزدیک نوک ریشه، هریک مسئول کدام نوع رشد، می‌باشند؟	۰/۵
۱۹	شکل رو برو مربوط به تولید مثل در نهاندانگان است، موارد ۱ و ۲ را نامگذاری کنید.	۰/۵
		
۲۰	با توجه به روش‌های مختلف تولید مثل جنسی در جانوران، پاسخ دهید: الف) کدام روش نگهداری جنین، در آپاسوم وجود دارد؟ ب) اندازه‌ی تخمک در جانوران مختلف به چه عاملی بستگی دارد؟	۰/۵
۲۱	در مورد دستگاه تولید مثل انسان، به سؤالات زیر پاسخ دهید. الف) مجرای اپیدیدیم علاوه بر نقش آن در بلوغ اسپرم چه اهمیتی دارد؟ ب) هورمون پروژسترون در مرحله‌ی لوتئال، از چه بخشی از تخمدان ترشح می‌شود؟ ج) چه نوع مکانیسم خود تنظیمی سبب کاهش ترشح LH و FSH در طی مرحله لوتئال می‌شود؟	۰/۷۵
۲۲	به دو سؤال زیر در رابطه با جنین انسان پاسخ دهید. الف) جفت از کدام پرده جنینی منشاء می‌گیرد؟ ب) نقش جفت را در نمو جنین بنویسید.	۰/۷۵
۲۳	شکل مقابل مربوط به تشریح مغز است. موارد ۱ تا ۴ را نامگذاری کنید.	۱
		
	« موفق باشید »	جمع نمره
		۲۰